



CENTRO INTEGRADO DE EDUCAÇÃO DE LACERDÓPOLIS – CIEL

Rua 7 de setembro, nº 92

CEP: 89 660 000 – Lacerdópolis - SC

Fone: (49) 3552 0044/920001121

E mail: ciellacerdopolis@yahoo.com.br

Professora: Ivonilde Dadalt

Turma: 4º ano 2.

1ª Semana: 13/04 a 17/04.



Oi!!!



Tudo bem com você?

Muita matemática nesses últimos dias em casa?

Hummmm, será que foi até seu caderninho e fez uma visita para lembrar da nossa querida matemática?

E no dia-a-dia colocou a cabecinha para funcionar e matematizou bastante?

Muito bem, então vamos lá!!!



Para darmos continuidade ao nosso trabalho e estarmos informados sobre como está a situação da pandemia em nosso país, vamos analisar um gráfico que trata da atual situação das pessoas vítimas da contaminação do COVID-19 no Brasil.

Distribuição dos casos por região.

O gráfico circular abaixo mostra a participação das regiões brasileiras nos dados totais de casos confirmados de COVID-19 no Brasil, de acordo com o Ministério da Saúde.

Casos confirmados por região (em%)

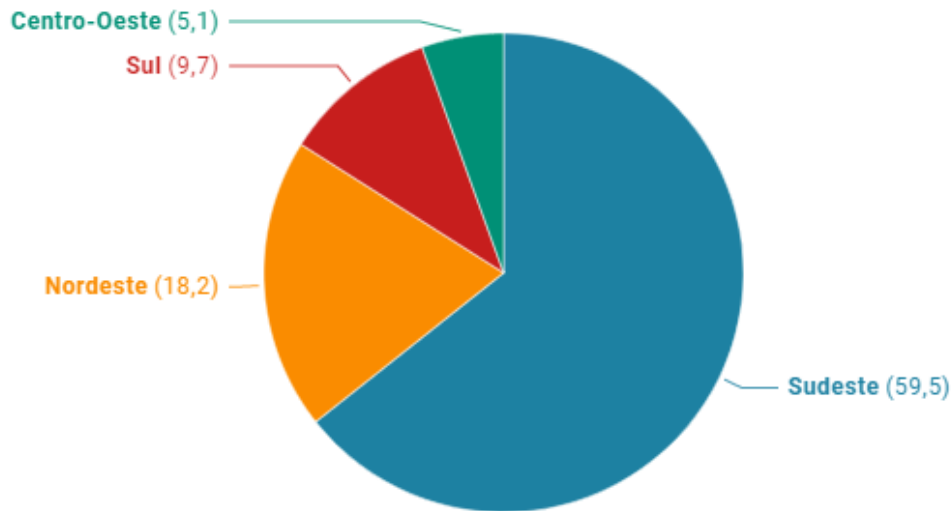


Gráfico: Estado de Minas • Fonte: Ministério da Sade - atualizado em 09/04, às 17h30 • Criado com Datawrapper

1- Observar e interpretar o gráfico acima.

a- Quais informações o gráfico fornece?

R-

b- Qual é o órgão que realizou essa pesquisa?

R-

c- Se caso não houvesse o enunciado com as informações, como saberíamos do que se trata o gráfico?

R-

d- Este gráfico traz informações sobre o COVID-19 com dados atualizados do dia 09/04/2020. Com base nestes dados qual região está em:


- 1º lugar com maior número de pessoas infectadas? _____, com _____%.
- 2º lugar? _____, com _____%.
- 3º lugar? _____, com _____%.
- 4º lugar, com menor número de pessoas infectadas? _____, com _____%.

f- Qual é a diferença percentual de pessoas infectadas entre a região que está em:

- 1º lugar e último lugar?

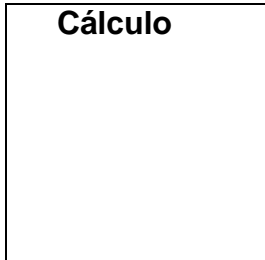
Cálculo

--



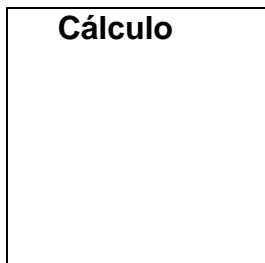
R-

- 1º e 2º lugar?



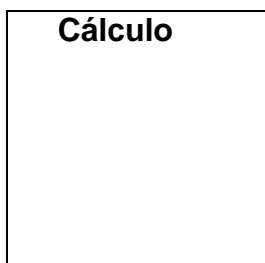
R-

- 1º e 3º lugar?



R-

g- Qual é a soma percentual das pessoas infectadas de todas as regiões brasileiras que aparecem no gráfico?



R-

h- Qual é o nome da região brasileira que não aparece no gráfico?

R-

i- Junto com a família, pesquisar o número atualizado de pessoas infectadas em todas as regiões brasileiras, inclusive aquela que não aparece no gráfico.

- **Registre o número de infectados encontrado em cada região brasileira.**

- Faça a soma e encontre o número de pessoas infectadas em todo o Brasil.

“Bora” lá colocar os neurônios para funcionar!!! kkkk

Beijão no coração!

